

STAROVĚKÝ EGYPT

Poloha

Tím nejdůležitějším pro umístění a bohatství starověkého Egypta byla řeka – Nil. Vyne se Egyptem od Etiopských hor až k deltě u Středozemního moře a přináší zemi život.

Na Nilu dochází k pravidelným záplavám, což vytváří úzký pruh velmi úrodné země uprostřed pouště. Bez Nilu by egyptská civilizace nikdy neexistovala, natož vzkvétala. Ovšem nilské záplavy byly někdy tak velké, že ničily vesnice a lidé museli společně pracovat, aby je ovládli pomocí vodních kanálů a hrází. Řeka se navíc stala i obchodní tepnou Egypta.

Vznik státu

Potřeba ovládat řeku nutila Egyptány, aby spolupracovali a řídili své aktivity, což vedlo k vzniku státu. Tomu vládl **faraon**, jediný muž, který měl v rukou **absolutní moc**.

V době svého počátku, byl Egypt rozdělen na dvě samostatné říše – **Horní Egypt**, který se prostíral podél horního (jižního) toku řeky Nilu, a **Dolní Egypt**, který se nalézal převážně v oblasti nilské delty.

Kolem roku **3100 př. n. l. faraon Meni sjednotil Egypt** v jednu říši, a tak začala historie nejsilnějšího státu své doby.

Chronologie a události

K časovému zařazení událostí ve starověkém Egyptě se nabízí dvě metody – říše (a tzv. přechodná období mezi nimi) nebo panovnické dynastie (protože užití letopočtů je až do období Nové říše velmi nepřesné a liší se podle použitých pramenů):

Stará říše 3000 – 2160 př. n. l. 1.– 6. dynastie

- centrum moci je v **Mennoferu (Memfis)**
- **Stavby pyramid** – **stupňovitou** pyramidu pro **faraona Džosera** navrhl kolem roku 3000 př.n.l. architekt Imhotep
- později **klasické pyramidy** faraonů **Snofrua, Cheopse (Chufeva), Rachefa (Chefréna) a Menkaureho (Mykerina)** – v **Gíze**.




Střední říše 2050 – 1780 př. n. l. 11.– 12. dynastie

- centrem moci jsou **Théby**
- klasické období staroegyptské kultury a umění
- poté je Egypt dobyt kmeny **Hyksósů** (kočovníků z Asie)

Nová říše 1550 – 1070 př. n. l. 18.– 20. dynastie

- Egypt se stává nejmocnějším státem tehdy známého světa.
- Královna **Hatšepsovet** vládne coby muž. **Thutmose III.** je velkým válečníkem – za jeho vlády je území Egypta nejrozsáhlejší.
- Je založeno **Údolí králů**, kam jsou pohřbíváni do svých hrobek egyptští faraoni.
- Postaveny jsou chrámové komplexy **Luxor** a **Karnak**.
- **Amenhotep IV.** (18. dynastie) provede **náboženskou reformu** – změni egyptské polyteistické náboženství na monoteismus s jediným bohem **Atonem**. Rovněž si změni jméno na **Achnaton** a vybuduje nové hlavní město **Achetaton** (dnešní El Amarna). Jeho manželka **Nefertiti** je pokládána za nejkrásnější ženu své doby.
- Jeho nástupce **Tutanchamon** navrácí zemi zpět staré náboženství a Achnatona prohlašuje kacířem. Hlavní město říše se vrací do Théb.
- **Ramses II.** (19. dynastie) je velkým válečníkem a **poráží Chetity u Kadeše v roce 1285 př. n. l.** Poté v roce **1270 př. n. l.** podepisuje s králem **Chattušilišem III.** pravděpodobně první **mírovou smlouvu** v dějinách. Staví také monumentální chrámy a obrovské sochy (např. v Abu Simbelu – viz obrázek). Navíc je možné, že právě on byl faraonem, o němž se píše v Bibli – v části Exodus.



Pozdní říše 664 – 332 př. n. l. 26.– 31. dynastie

- V roce **525 př. n. l.** dobývají Egypt **Peršané** a země se dostává pod vliv perské kultury a náboženství.

Ptolemaiovský Egypt 323 – 30 př. n. l.

- Roku **332 př. n. l.** dobývá Egypt **Alexandr Veliký** a zakládá nové hlavní město **Alexandrii**.
- Po Alexandrově smrti se faraonem stává jeho přítel **Ptolemaios** a zakládá dynastii Ptolemaiovců.
- **Kleopatra VII.** má milostný poměr s Juliem Caesarem a Markem Antoniem, bojuje proti římským legiím a poté, co prohraje bitvu u Actia, se **Egypt v roce 30 př. n. l. stává římskou provincií.**

Vláda a společnost

Svrchovaným vládcem Egypta byl faraon, jemuž také náležela veškerá půda. Vládnout mu pomáhal jeho **vezír**. Až do konce 20. dynastie se jednalo o **autokratickou vládu**. Později se na vládě podíleli i nejvyšší kněží, takže se Egypt stal **teokracií**. Právě vyšší kněží byli nejvzdělanější společenskou vrstvou, a tak většina politické moci ležela v jejich rukou.

Dalšími váženými společenskými vrstvami byli úředníci a vojáci.

Nejnižší vrstvu tvořili **otroci**, většinou váleční zajatci.

Hospodářství

Každoroční záplavy přinášely kvalitní **úrodnou půdu**. Aby dokázali přesně určit čas dalších záplav, museli si Egypťané vytvořit **kalendář s 365 dny v roce**. A aby mohli záplav co nejlépe využít, vybudovali **zavlažovací systémy**. Egypťané pěstovali zejména pšenici a pětinu celkového výnosu museli odevzdat panovníkovi. Na místní úrovni byla práce řízena z chrámů – **chrámové hospodářství**.

Nejdůležitější egyptská řemesla byla **tkalcovství**, **výroba papyru** z rákosu a provazů, práce s **kovy** (měď, bronz), **foukání skla**, **projektování staveb**, stavitelství z **kamene**, **stavby lodí** (říční lodě pro Nil a mělčiny).

Kultura

Egypťané psali na **papyrus** nebo tesali písmo do **kamene**. Existovaly tři základní typy písma:

- **Hieroglyfy** byly nejstarší. Jednalo se o obrázky znázorňující nebo symbolizující určité významy, později znázorňovaly skupiny hlásek.
- **Hieratické písmo** bylo mladší a používali ho zejména kněží pro náboženské účely.
- Pozdější, **démotické** (neboli lidové) písmo bylo nejjednodušší a nejrozšířenější. Používalo se pro administrativní účely, daňové záznamy a každodenní život.

Egyptské písmo rozluštil francouzský archeolog **J. F. Champollion** v roce 1822, díky tzv. **Rosettské desce** nalezené vojáky Napoleona v roce 1799. Deska obsahovala soubor tří identických textů ve třech písmech – v řeckém, hieroglyfickém a hieratickém.

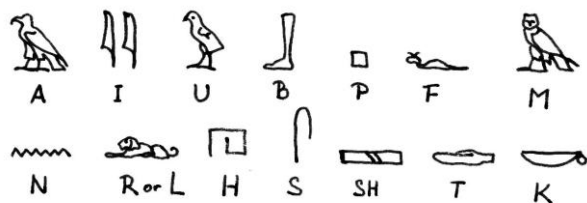
Nejznámější literární dílo je **Achnatonův hymnus na Slunce**, óda oslavující slunce jako dárce života.

Starí Egypťané výborně ovládali **matematiku** a uměli používat **geometrii** na pokročilé úrovni, obzvláště ve stavitelství. Měli rovněž detailní znalosti **lidské anatomie** (díky mumifikaci) a pokročilé znalosti **lékařství**.

ÚLOHA 1: Napiš své jméno egyptskými hieroglyfy!

Jména faraonů dnes můžeme číst na **kartuších** (destičky s písmem) na stěnách jejich hrodek.

Prostuduj si staroegyptskou abecedu, která obsahovala většinou jen souhlásky. Potom zkus napsat své jméno s použitím těchto hieroglyfických symbolů – a tvé jméno bude v kartuši!



Náboženství

Egyptské náboženství bylo **polyteistické**, což znamená, že věřili ve více bohů. Nejmocnějším bohem byl **Ra, bůh slunce**. Dalšími uznávanými bohy byli například **Usire**, bůh Nilu, **Hor**, bůh nebes, **Anup**, bůh mrtvých, nebo **Sutech**, bůh temnoty a ničení. Kromě nich Egypťané uctívali také mnoho místních božstev. Většina egyptských bohů měla zvířecí rysy.

Jediným **monoteistickým** obdobím byla vláda Achnatona (Amenhotepa IV.), který zavedl uctívání slunečního boha **Atona** a zakázal všechna ostatní božstva. Po své smrti byl prohlášen **kacířem** a situace se vrátila k předchozímu stavu.

Faraon byl přesvědčen o svém **božském původu** a lidé se k němu modlili.

Staří Egypťané byli velmi nábožensky založení a náboženské obřady byly nezbytnou součástí jejich života od kolébky do hrobu. Nesmírně jim záleželo na posmrtném životě. Tělo muselo být zakonzervováno – **mumifikováno**, aby duše mohla přežít a žít navěky. Mumie byla uložena do **sarkofágu** v **hrobce** s předměty každodenního života, aby měla duše „pohodlí.“ K výbavě mumie dále patřila ***Kniha mrtvých***, což byl soubor instrukcí ohledně soudu mrtvých i posmrtného života.

ÚLOHA 2: Mumifikace – *Pokud je uchováno tělo, přežije i duše.*

Aby duše mohla žít věčně, muselo být uchováno i tělo. Bez něj by duše věčně bezmocně bloudila světem.

Seřadte správně následující kroky mumifikačního procesu, od prvního po poslední. V některých případech budete rovněž muset zvolit z několika variant tu správnou. Pamatujte, že proces byl velmi praktický.

- Tělo ošetřete oleji a zakonzervujte pryskyřicí.
- Odstraňte vnitřní orgány – *plice, srdce, žaludek, játra, střeva*. Pozor, jeden z nich musí zůstat v těle! Který to bude?
Potom uložte ostatní čtyři do nádob zvaných **kanopy** (ty budou umístěny v hrobce spolu se sarkofágem).
- Tělesné dutiny naplňte plátnem napuštěným pryskyřicí.
- Mezi jednotlivé vrstvy plátna vložte různé amulety a obličej zakryjte posmrtnou maskou.
- Tělo omyjte ve vodách Nilu.
- Zabalte tělo do mnoha vrstev pruhů plátna.
- Nyní nalíčíte obličej a na hlavu nasadíte paruku.
- Vysušte tělo – Ale jak? *V horkém vzduchu / nad ohněm / tělo pokryjete solí.*
- Vyjměte mozek pomocí speciálního *háčku / kyseliny / jehly*.



Architektura

Nejtypičtějšími budovami starověkého Egypta byly chrámy, hrobky a pyramidy.

Chrámy byly zasvěceny určitým bohům. Často byly zdobeny obrovskými **sochami** – **kolosy**, například Ramsese II. v Abu Simbelu, a **obelisky**. Nejznámější **chrámové komplexy** byly v **Luxoru a Karnaku**.

Pyramidy se nestavěly ve všech obdobích starověkého Egypta. První hrobky měly podobu **mastab**. Ty se později na sebe vršily do tzv. **stupňovitých pyramid**. První – jednoduše nazvaná **Stupňovitá pyramida** – byla postavena faraonem **Džoserem** okolo roku 3000 př. n. l.. Další postavil faraon **Snofru**.

Proslulé klasické egyptské pyramidy postavili **panovníci čtvrté dynastie**. Pyramidy byly postaveny z milionů kamenných kvádrů, které byly dopravovány na lodích po řece Nilu a přetahovány většinou otroky. Tři pyramidy v **Gíze** postavili faraoni:

- **Cheops** (neboli **Chufev**) – největší pyramida v Gíze, původně 146,6 m vysoká
- **Rachef** (neboli **Chefrén**) – pyramidu hlídá **Sfinga** – viz obrázek
- **Menkauré** (neboli **Mykerinos**) – nejmenší pyramida v Gíze



Faraoni pozdějších dynastií a bohatí lidé se nechali pohřbívat ve **hrobkách**, které byly bohatě zdobené podle společenské úrovně a bohatství svého „obyvatele.“ Faraoni a členové královské rodiny byli většinou pohřbíváni v **Údolí králů** nebo **Údolí královen** poblíž Théb. Většina hrobek buď nebyla dosud objevena, nebo, daleko častěji, byly během následujících tisíciletí vyloupeny.

Zřejmě nejslavnější je **hrobka krále Tutanchamona**, Achnatonova syna, kterou objevil **Howard Carter** v roce 1922. A protože byla nedotčena, můžeme zkoumat její bohatství a rozmanitost artefaktů nalezených v hrobce.

ÚLOHA 3: Stavba pyramidy

Přečti si, jak Herodotos popisuje stavbu pyramidy:

Cheops usedl na trůn a propadl všelikým způsobům zlovolnosti. Dal uzavřít chrámy a nutil Egypťany pracovat v jeho službách. Někteří museli táhnout kamenné kvádry z lomů dolů podél Nilu...další převzali kvádry poté, co byly dopraveny po řece na lodích...Trvalo deset let, než byla postavena kamenná rampa pro dopravu kvádrů. Je postavena z leštěného kamene a pokryta vyrytými obrázky zvířat...Sama pyramida byla postavena ve stupních. Zbývající kameny byly vyzdviženy pomocí strojů sestavených z krátkých dřevěných kúlů.

Představ si, že jsi stavitel pyramidy. Napiš pět věcí nebo faktorů, které bys pokládal/a za důležité pro úspěšnou stavbu pyramidy.

OPAKOVÁNÍ:

ÚLOHA 4:

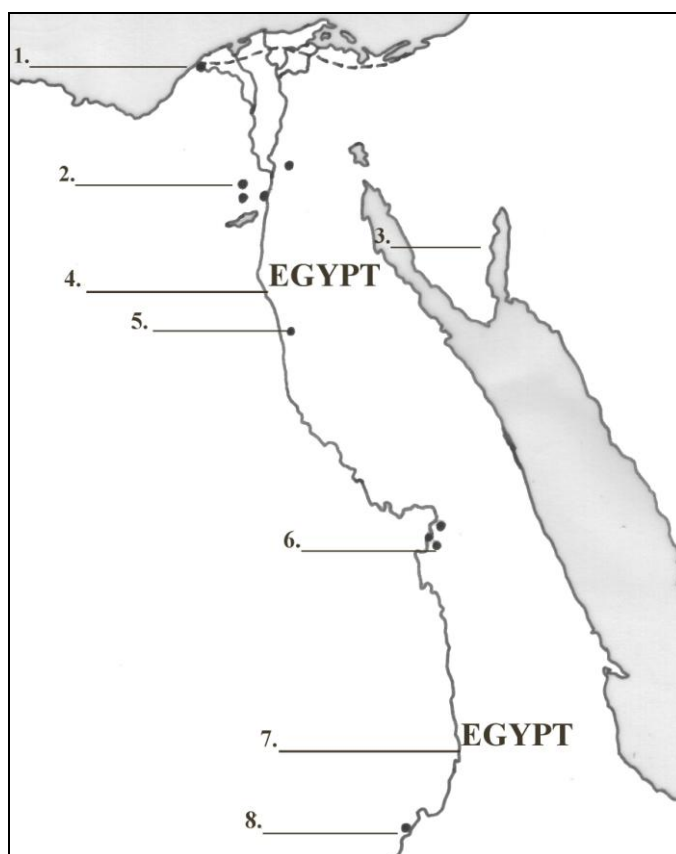
Chronologicky seřad' tyto události:

- | | |
|---------------------------------|--|
| a. mírová smlouva s Chetity | f. Tutanchamonův pohřeb |
| b. monoteistická reforma | g. Champollion rozluští hieroglyfy |
| c. stavba Cheopsovy pyramidy | h. archeologické práce Howarda Cartera |
| d. sjednocení Egypta | i. Alexandr Veliký dobývá Egypt |
| e. smrt královny Kleopatry VII. | |

1 ____ 2 ____ 3 ____ 4 ____ 5 ____ 6 ____ 7 ____ 8 ____ 9 ____

ÚLOHA 5:

Doplň popisky k mapě:



ÚLOHA 6:

S partnerem nebo ve skupině najděte důvody, proč

- jste rádi, že nemusíte žít ve starověkém Egyptě.
- byste rádi zkusili život ve starověkém Egyptě.